



CÂMARA MUNICIPAL DE ABAETETUBA

CONCURSO PÚBLICO - PROVA OBJETIVA: 26 de agosto de 2018

## **NÍVEL FUNDAMENTAL COMPLETO**

# **AGENTE DE PORTARIA, SERVENTE E COPEIRA.**

Nome do Candidato: \_\_\_\_\_

Nº de Inscrição: \_\_\_\_\_

Assinatura \_\_\_\_\_

### **PROVA 1 - COR BRANCA**

**A COR DA CAPA DO SEU BOLETIM DE QUESTÕES É BRANCA.**  
**MARQUE A COR EM SEU CARTÃO RESPOSTA.**

#### **INSTRUÇÕES AO CANDIDATO**

1. Confira se o Boletim de Questões que você recebeu corresponde ao cargo/nível de escolaridade ao qual você está inscrito, conforme consta no seu cartão de inscrição e no cartão resposta. Caso contrário, comunique imediatamente ao fiscal de sala.
2. Confira se, além deste BOLETIM DE QUESTÕES, você recebeu o CARTÃO RESPOSTA, destinado à marcação das respostas às questões objetivas.
3. Este BOLETIM DE QUESTÕES contém a **Prova Objetiva com 20 (vinte) questões**, 10 de Língua Portuguesa e 10 de Matemática e Raciocínio Lógico. Caso exista alguma falha de impressão, comunique imediatamente ao fiscal de sala. Na prova há espaço reservado para rascunho. **Esta prova terá duração de 04 (quatro) horas, tendo seu início às 8:00h e término às 12:00h (horário Abaetetuba).**
4. Para cada questão objetiva, são apresentadas 04 (quatro) opções de resposta, identificadas com as letras (A), (B), (C), (D). Apenas uma responde corretamente à questão, considerando a numeração de 01 a 20.
5. Confira se seu nome, número de inscrição, cargo e data de nascimento, constam na parte superior do CARTÃO RESPOSTA que você recebeu. Caso exista algum erro de impressão, comunique imediatamente ao fiscal de sala, a fim de que este registre a correção na Ata de Sala.
6. A **saída do candidato da sala somente será permitida** depois de transcorrido o tempo de **01 hora do início da prova**, mediante a **entrega obrigatória ao fiscal de sala do seu cartão resposta e do boletim de questões**. A inobservância acarretará a eliminação do candidato.
7. É obrigatório que o candidato assine a LISTA DE PRESENÇA e o CARTÃO RESPOSTA, do mesmo modo como está assinado no seu documento de identificação.
8. A marcação do CARTÃO RESPOSTA deve ser feita somente com caneta esferográfica de tinta preta ou azul, pois lápis não será considerado.
9. A maneira correta de marcar as respostas no CARTÃO RESPOSTA é cobrir totalmente o espaço correspondente à letra a ser assinalada, conforme o exemplo que consta no CARTÃO RESPOSTA.
10. Em hipótese alguma haverá substituição do CARTÃO RESPOSTA por erro do candidato. A substituição só será autorizada se for constatada falha de impressão.
11. O **CARTÃO RESPOSTA é o único documento válido para o processamento de suas respostas**, pois a **MARCAÇÃO INCORRETA NO CARTÃO RESPOSTA DA COR DA CAPA DA SUA PROVA É DE SUA INTEIRA RESPONSABILIDADE E NÃO SERÁ CORRIGIDO**.
12. Será automaticamente eliminado do Concurso Público da Câmara Municipal de Abaetetuba, o candidato que, durante a realização da prova, descumprir os procedimentos definidos no Edital de Abertura nº 001/2018.

Boa Prova!!!

FADESP

## **LÍNGUA PORTUGUESA**

**Leia atentamente o texto a seguir para responder às questões de 1 a 10.**

### **GENTRIFICAÇÃO**

Entende-se por gentrificação o processo de revitalização dos espaços urbanos ou a aparente substituição de paisagens de caráter popular por construções típicas de áreas nobres. Trata-se de um processo em que o espaço geográfico urbano transforma-se e ressignifica-se, sobretudo em função da valorização acentuada e do enobrecimento de uma área antes considerada periférica.

Muitas vezes, as áreas periféricas de uma cidade formam-se de maneira não planejada, seja através de invasões, seja através de uma expansão descontrolada de loteamentos imobiliários em áreas afastadas. Esses locais, quase sempre sem infraestrutura básica (como saneamento, asfalto e transporte público de qualidade), sofrem pela sua distância em relação aos principais centros urbanos da cidade.

Com o tempo, prolifera-se aquilo que o geógrafo Roberto Lobato Corrêa denomina por *descentralização*, em que as áreas centrais – detentoras dos principais serviços e atividades urbanas – multiplicam-se e disseminam-se para outras áreas. Com isso, regiões antes desvalorizadas e sem estruturas ressignificam-se, passando por uma acentuada especulação imobiliária e modernização de seus espaços.

É nesse contexto que a gentrificação ocorre, pois as áreas antes desvalorizadas passam a ter um custo muito alto, ao passo que a população residente nesse local é gradativamente substituída por um perfil comercial ou de grupos sociais mais abastados. Com isso, a paisagem modifica-se, e as zonas, que antes eram só guetos, barracos e pobreza, transformam-se em condomínios, prédios e casas de médio e alto padrão.

No entanto, é importante considerar que a transformação desses espaços não representa necessariamente uma mudança no padrão de vida da sociedade, haja vista que a população mais pobre, ao emigrar dessas regiões, passa a habitar outras localidades, geralmente ainda mais periféricas. Essa ocorrência é chamada de *segregação urbana*.

Um exemplo nítido do processo de gentrificação é a favela do Vidigal, no Rio de Janeiro. Esse local vai aos poucos se transformando, recebendo novas casas de luxo formadas por pessoas ricas que buscam a área visando à bela visão do alto do morro. Com isso, o Vidigal vai conhecendo uma cada vez maior valorização de seus espaços, com a substituição do perfil de moradores e, conseqüentemente, das estruturas que os cercam.

Nem sempre o processo de gentrificação é um fenômeno econômico sem relação com as ações públicas, às vezes, é o próprio Estado quem comanda ou interfere no processo. Na África do Sul, durante a Copa, algumas populações foram removidas e deslocadas para moradias populares, e seus lares pobres foram substituídos por outras construções. Na Copa do Mundo de 2014, a região da zona leste de São Paulo viu uma ressignificação de suas áreas após a construção do estádio de futebol utilizado pela cidade durante o megaevento, com a conseqüente valorização abrupta do valor do solo.

(<https://mundoeducacao.bol.uol.com.br/geografia/gentrificacao.htm> [Texto adaptado])

**01** De acordo com a leitura do texto, o processo de gentrificação

- (A) transforma espaços e áreas nobres em favelas.
- (B) provoca a segregação humana.
- (C) preserva a paisagem geográfica urbana.
- (D) muda o padrão de vida da população mais pobre.

**02** A finalidade do texto é

- (A) informar sobre o processo geográfico e social de gentrificação.
- (B) apresentar uma visão irônica e bem humorada sobre gentrificação.
- (C) mostrar a opinião dos leitores sobre a gentrificação.
- (D) convencer os leitores dos benefícios da gentrificação.

**03** O texto é predominantemente

- (A) persuasivo
- (B) narrativo.
- (C) descritivo.
- (D) dissertativo.

**04** Em "... a população mais pobre, ao emigrar dessas regiões, passa a habitar outras localidades..." (quinto parágrafo), a forma verbal **emigrar** foi empregada como sinônimo de

- (A) sair.
- (B) entrar.
- (C) regressar.
- (D) usufruir.

**05** Em "Esses locais, quase sempre sem infraestrutura básica (como saneamento, asfalto e transporte público de qualidade), sofrem pela sua distância em relação aos principais centros urbanos da cidade." (segundo parágrafo), o termo **como** introduz uma

- (A) causa.
- (B) comparação.
- (C) explicação.
- (D) exemplificação.

**06** O enunciado "Entende-se por gentrificação o processo de revitalização dos espaços urbanos ou a aparente substituição de paisagens de caráter popular por construções típicas de áreas nobres" (primeiro parágrafo) é

- (A) uma frase, mas não é uma oração.
- (B) uma oração, mas não é uma frase.
- (C) uma frase e uma oração.
- (D) uma frase nominal.

**07** A função sintática do termo grifado está corretamente indicada em

- (A) "Trata-se de um processo..." → objeto indireto
- (B) "... a região da zona leste de São Paulo viu uma ressignificação de suas áreas" → agente da passiva
- (C) "Um exemplo nítido do processo de gentrificação é a favela do Vidigal" → complemento nominal
- (D) "É nesse contexto que a gentrificação ocorre" → objeto direto

**08** O termo grifado expressa ideia de qualidade em

- (A) "... a população mais pobre, ao emigrar dessas regiões, passa a habitar outras localidades..."
- (B) "... as áreas periféricas de uma cidade formam-se de maneira não planejada..."
- (C) "algumas populações foram removidas e deslocadas para moradias populares..."
- (D) "... a aparente substituição de paisagens de caráter popular por construções típicas de áreas nobres"

**09** No trecho "Com o tempo, prolifera-se aquilo que o geógrafo Roberto Lobato Corrêa denomina por *descentralização*, em que as áreas centrais – detentoras dos principais serviços e atividades urbanas – multiplicam-se e disseminam-se para outras áreas" (terceiro parágrafo), a função do travessão é

- (A) indicar a fala da personagem ou a mudança de interlocutor nos diálogos.
- (B) repetir as ideias anteriormente expressas.
- (C) delimitar expressões ou frases explicativas.
- (D) destacar algum elemento escrito em outra língua no interior do texto.

**10** São acentuadas pelo mesmo motivo as palavras

- (A) “público”, “condomínios” e “nítido”.
- (B) “área”, “distância” e “próprio”.
- (C) “periférica”, “através” e “após”.
- (D) “médio”, “caráter” e “geógrafo”.

### **MATEMÁTICA**

**UTILIZE A INFORMAÇÃO ABAIXO PARA RESOLVER ÀS PROXIMAS 4 QUESTÕES**

Segundo o site da Câmara de Vereadores de Abaetetuba, as fotos dos atuais representantes do povo nessa casa apresentam-se como no quadro abaixo:



**11** A mesa diretora da Câmara de Vereadores de Abaetetuba é constituída pelo presidente, o vice-presidente, o 1º secretário e o 2º secretário. A razão entre o número de vereadores que compõem a mesa diretora e aqueles que dela não fazem parte é equivalente a

- (A)  $2/5$ .
- (B)  $3/5$ .
- (C)  $2/7$ .
- (D)  $3/7$ .

**12** Se há apenas uma mulher entre os vereadores de Abaetetuba, o percentual delas nesse grupo é, aproximadamente, igual a

- (A) 5%.
- (B) 7%.
- (C) 9%.
- (D) 10%.

**13** O Regimento da Câmara Municipal de Abaetetuba, em várias situações, prevê que a aprovação de matérias deve contar com o aceite de, no mínimo, dois terços dos vereadores. Para aprovar matérias nessas ocasiões são necessários, no mínimo,

- (A) 6 vereadores.
- (B) 7 vereadores.
- (C) 8 vereadores.
- (D) 10 vereadores.

**14** É possível afirmar que pelo menos dois dos atuais vereadores nasceram no mesmo

- (A) ano.
- (B) mês.
- (C) dia.
- (D) hospital.

RASCUNHO

**15** A tabela abaixo apresenta dados sobre o desembarque de tamoatá no Ver-o-Peso, em Belém, em certo período.

Tabela 4. Número de embarcações (N) e capacidade mínima e máxima das urnas de gelo da frota que desembarca tamoatá no porto do Ver-o-Peso, por município, dos estados do Pará e Amapá.

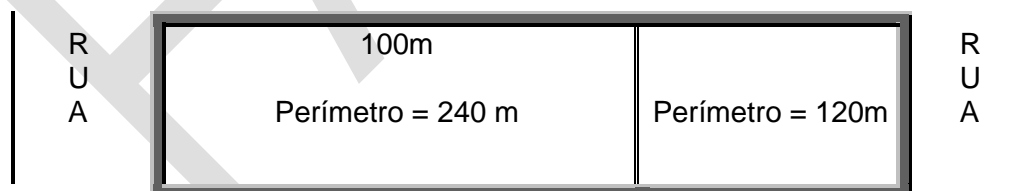
Localidade	Município	UF	N	Mín. (t)	Máx. (t)
Ilha de Marajó	Soure	PA	108	0,8	22,0
	Ponta de Pedras	PA	30	1,0	7,0
	Chaves	PA	28	1,5	17,0
	Santa Cruz do Arari	PA	25	0,5	27,0
	Cachoeira do Arari	PA	21	1,0	13,0
	Salvaterra	PA	14	1,1	12,0
Outras localidades	Belém	PA	108	1,0	25,0
	Abaetetuba	PA	34	1,0	3,00
	Cametá	PA	16	5,0	12,0
	Vigia	PA	11	2,0	14,0
	Igarapé-Miri	PA	5	2,0	1,00
	Barcarena	PA	4	3,0	17,0
	Limoeiro do Ajuru	PA	4	3,0	7,0
	Bragança	PA	2	5,0	14,0
	Colares	PA	1	8,0	8,0
	Macapá	AP	4	4,0	16,0
<b>Total</b>			<b>415</b>	<b>0,5</b>	<b>27,0</b>

Fonte: Albuquerque e Barthem, em: A pesca do tamoatá *Hoplosternum littorale* (Hancock, 1828) (Siluriformes: Callichthyidae) na ilha de Marajó - Bol. Mus. Para. Emílio Goeldi. Ciênc. hum. vol.3 no.3 Belém Sept./Dec. 2008

No período considerado, a quantidade de embarcações com tamoatás vindos de Abaetetuba que desembarcaram no Ver-o-Peso foi igual a

- (A) 28.  
(B) 30.  
(C) 34.  
(D) 16.

**16** Um terreno retangular com 100m de comprimento e 240m de perímetro se juntou a outro, também retangular e de mesma largura, com 120m de perímetro, conforme o desenho abaixo.



Após a junção, a área do terreno passou a medir

- (A) 2.200 m<sup>2</sup>.  
(B) 2.400 m<sup>2</sup>.  
(C) 2.600 m<sup>2</sup>.  
(D) 2.800 m<sup>2</sup>.

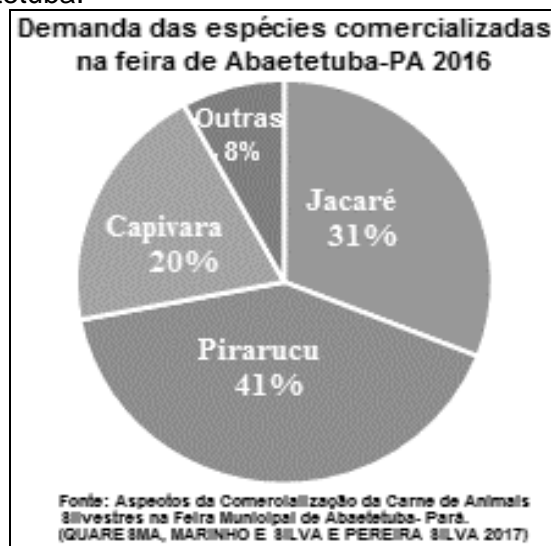
**17** A viagem de Abaetetuba a Belém, pela Alça Viária, em um carro com velocidade média de 60km/h, demora duas horas. Se a velocidade média fosse de 40 km/h a viagem demoraria

- (A) 3 horas.
- (B) 3 horas e 30 minutos.
- (C) 4 horas.
- (D) 4 horas e 30 minutos.

**18** A cachaça Indiazinha, fabricada em Abaetetuba e considerada uma das 50 melhores do Brasil, é comercializada em garrafas de 500 ml e de 160 ml. Se um litro corresponde a 1.000 ml, a maior quantidade de garrafas de Indiazinha que se pode engarrafar com 50 litros de cachaça, sem sobrar aguardente, será igual a

- (A) 310, sendo 304 garrafas de 160 ml e 6 garrafas de 500 ml.
- (B) 308, sendo 286 garrafas de 160 ml e 22 garrafas de 500 ml.
- (C) 306, sendo 290 garrafas de 160 ml e 16 garrafas de 500 ml.
- (D) 304, sendo 300 garrafas de 160 ml e 4 garrafas de 500 ml.

**19** O gráfico abaixo apresenta dados de uma pesquisa sobre comercialização de animais silvestres na feira de Abaetetuba.

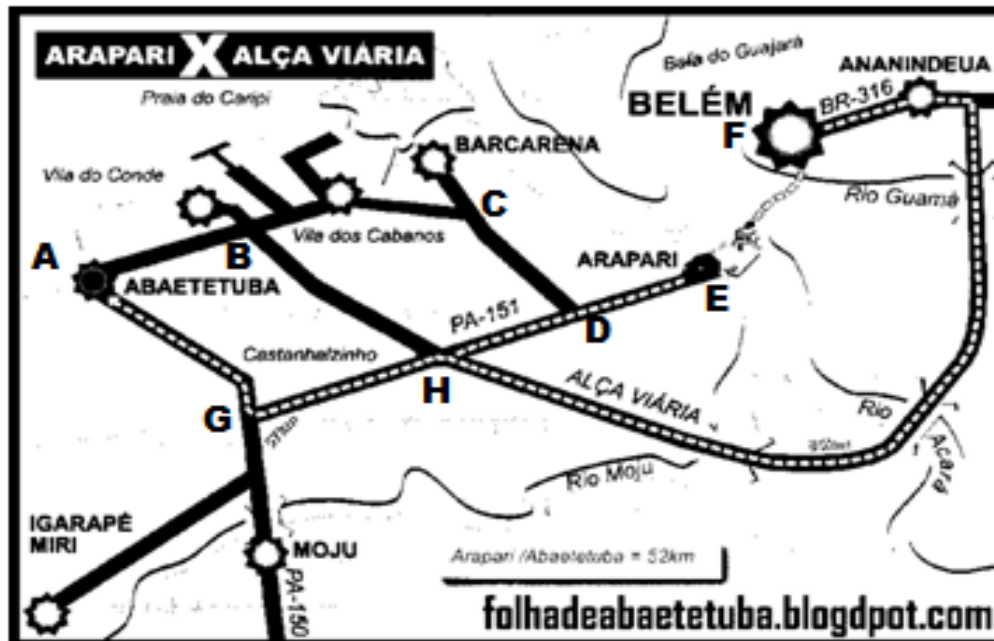


Se as carnes de pirarucus e jacarés somassem 864 kg, as de capivara pesariam

- (A) 240 kg.
- (B) 260 kg.
- (C) 280 kg.
- (D) 300 kg.

RASCUNHO

20 Segundo o mapa abaixo, a quantidade de diferentes caminhos para se ir de Abaetetuba a Belém pelo Arapari ou pela Alça Viária, sem repetir trechos nem passar duas vezes no mesmo ponto (A, B, C...), é igual a



- (A) 8.
- (B) 7.
- (C) 6.
- (D) 5.

RASCUNHO